


Geometrie 01 - úsečky a jejich dělení

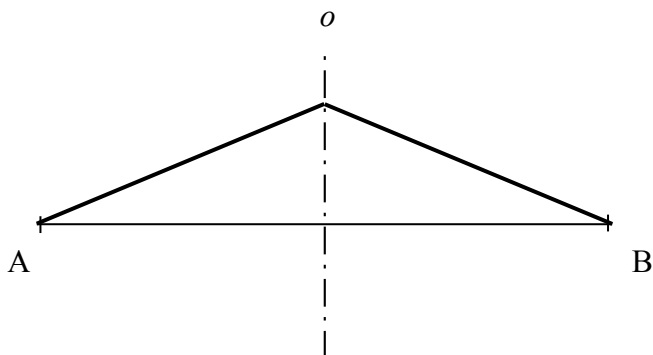
1. Popište postup a proved'te konstrukci osy úsečky AB !
2. Jaká je společná vlastnost všech těch bodů, které vytvářejí osu úsečky AB ?
3. Rozdělte úsečku CD na 6 stejně dlouhých úseček!
4. Rozdělte úsečku PR v poměru 2:3 !
5. Zvětšete úsečku ST v poměru 5:4 !
6. Zmenšete úsečku UV v poměru 3:5 !

PŘEDCHYSTANÉ OBRÁZKY K POUŽITÍ:


obrázek k úkolu číslo 1




obrázek k úkolu číslo 2




obrázek k úkolu číslo 3



obrázek k úkolu číslo 4



obrázek k úkolu číslo 5



obrázek k úkolu číslo 6

